







1/ Napiš do tabulky, zda se uvedené náboje přitahují nebo odpuzují (max. 6 bodů):

	a		se	
	a		se	
	a		se	

2/ Zatrhni křížkem tu vlastnost, kterou látce nebo tělesu přisuzuješ (max. 36 bodů):

Název látky nebo tělesa za normálních podmínek	je vodič	je izolant	nelze rozhodnout
Železo			
Měď			
Cín			
Polyetylén (PET)			
Zlato			
Žula			
Hliník			
Voda			
Suché dřevo			
Mokrý dřevo			
Olovo			
Suchá keramika			

Zakroužkuj správné odpovědi:

3/ Přístroj na měření elektrického napětí se jmenuje (2 body)

- a/ wattmetr
- b/ voltmetr
- c/ ampérmetr

5/ Uzavřeným elektrickým obvodem protéká (2 body)

- a/ elektrický proud
- b/ elektrické napětí
- c/ elektrický příkon

4/ Základní jednotkou elektrického napětí je (2 body)

- a/ farad
- b/ Watt
- c/ volt

6/ Zdrojem napětí pro elektrické spotřebiče jsou (2 body)

- a/ elektrická síť 230 V, akumulátor, baterie
- b/ zásuvka, zeлектроvané vlasy, hromosvod
- c/ akumulátor, ventilátor, žehlička

Datum:

Jméno a příjmení:

Hodnocení: 50 až 41 b.-1, 40 až 31 b.-2, 30 až 21 b.-3, 20 až 11 b.-4, 10 až 0 b.-5

Třída:

Podpis žáka: